

**Parcial 4 de Mecánica IC. Grupo D. Curso 10/11**

Nombre y apellidos.....

**Ejercicio 1**

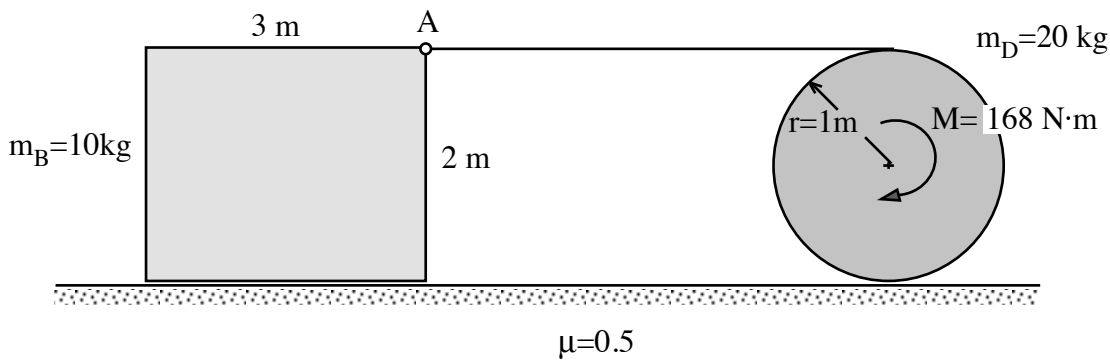
Un bloque rectangular de masa **10 kg**, es arrastrado por un disco de masa  **$m_D=20$  kg** mediante un hilo atado al punto A del bloque y enrollado en el borde del disco, como se muestra en la figura. Sobre el disco hay aplicado un par constante de **168 N·m**.

El coeficiente de rozamiento en todos los contactos con el suelo es  **$\mu=0.5$**

(El momento de inercia de un disco respecto a su centro  $I_G=0.5 mr^2$  )

Suponiendo que el disco **rueda sin deslizar en el suelo**, y que el bloque **no vuelca** hallar:

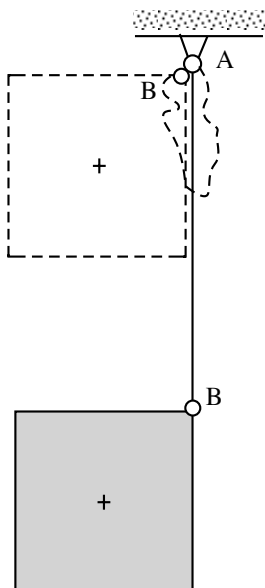
- La aceleración del bloque y la aceleración angular del disco
- Comprobar si las hipótesis que se han hecho sobre el movimiento son correctas



**Ejercicio 2**

El bloque cuadrado de la figura mide **2 m** de lado y su masa es de **3 kg**. Su esquina B está atada mediante un hilo ideal, de longitud **10 m**, al techo (A).

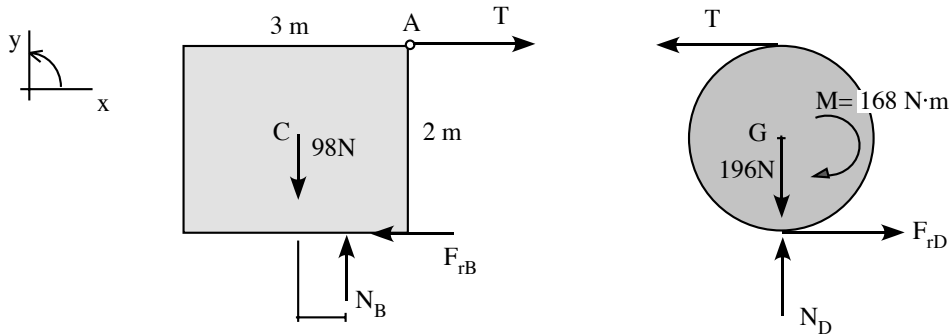
El bloque se suelta desde el reposo en la posición dibujada a trazos en el dibujo en que A y B coinciden, y cae verticalmente hasta que el hilo se tensa. Se pide:



- Velocidades angulares del bloque y del hilo inmediatamente después de tensarse el hilo
- Calcular la energía cinética del bloque justo antes y después de tensarse el hilo

Momento de inercia de un bloque rectangular de lados b y h, respecto a su cdg:  $I_G = \frac{1}{12} m(b^2 + h^2)$

### Solución 1



El bloque no vuelca, se traslada horizontalmente y todos sus puntos se mueven igual.

( $\vec{a}_C = \vec{a}_A = a\vec{i}$ ;  $\alpha=0$ ). Además tiene que deslizar:  $F_{rB} = \mu N_B$

Bloque:

$$\sum F_x = ma_{Gx}) \quad T - F_{rB} = 10 \cdot a \rightarrow T = 10 \cdot a + 49 \quad [1]$$

$$\sum F_y = ma_{Gy}) \quad N_B = 98 \rightarrow F_{rB} = 0.5 N_B = 49$$

$$M_G = I_G \alpha) \quad x \cdot N_B - 1 \cdot F_{rB} - 1 \cdot T = 0 \rightarrow x = \frac{49 + T}{98} \quad [2]$$

$$T > 0 \quad -1.5 \leq x \leq 1.5$$

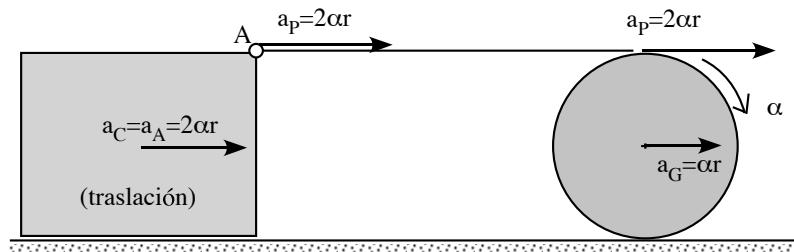
Disco:

$$\sum F_x = ma_{Gx}) \quad -T + F_{rD} = 20 \cdot a_G \quad [3]$$

$$\sum F_y = ma_{Gy}) \quad N_D = 196$$

$$M_G = I_G \alpha) \quad -168 + 1 \cdot F_{rD} + 1 \cdot T = -\left(\frac{1}{2} 20 \cdot 1^2\right) \cdot \alpha \quad [4]$$

Cinemática:



disco r s d:  $a_G = \alpha r = \alpha \cdot 1$

Como en el contacto con el hilo no hay deslizamiento, las componentes tangentes de la aceleración a ambos lados del contacto son iguales: si P es del hilo,  $a_P = 2\alpha r$

Al otro lado del hilo  $a_A = a_P = 2\alpha r \rightarrow a = 2\alpha r = 2\alpha$

Sustituyendo en las ecs:

$$\left. \begin{array}{l} T = 20\alpha + 49 \quad [1] \\ -T + F_{rD} = 20 \cdot \alpha \quad [3] \\ -168 + F_{rD} + T = -10 \cdot \alpha \quad [4] \end{array} \right\} \rightarrow \alpha = 1 \text{ rad/s}^2 \quad T = 69 \text{ N} \quad F_{rD} = 89 \text{ N}$$

Y la aceleración del bloque es:  $a = 2 \text{ m/s}^2$

b) En el bloque la normal debe estar aplicada dentro de la superficie de contacto; de la ec 2:

$x = 1.2 \text{ m} < 1.5$  cumple, no llega al extremo.

Para que el disco rsl:  $F_{rD} < \mu N_D \quad F_{rD} = 89 < 0.5 N_D = 0.5 \cdot 196 = 98$  también lo cumple

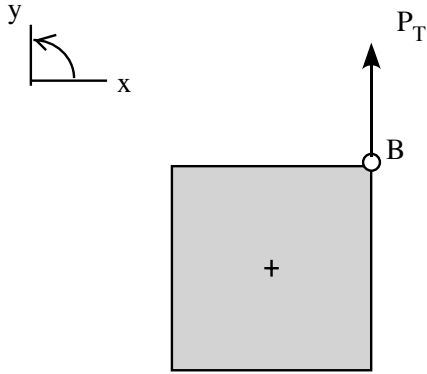
Las hipótesis son correctas.

Solución 2:

Hasta que el hilo se tensa, el bloque cae 10m llegando a dicha posición con:

$$v_G = \sqrt{2gh_G} = \sqrt{2 \cdot 9.8 \cdot 10} = 14 \text{ m/s} \quad \vec{v}_G = -14 \vec{j} \quad (\text{sin girar})$$

En ese momento el hilo se tensa y se produce una percusión  $P_T$



Ecs. percusiones bloque:  $m=3 \text{ kg}$ ; lado  $=2 \text{ m}$

antes  $\vec{v}_G = -14 \vec{j}$   $\omega=0$ ; después  $(v_{Gx}, -v_{Gy})$   $\omega \vec{k}$

$$\sum P_x = m(v_{Gx}^d - v_{Gx}^a) \quad 0 = 3 \cdot (v_{Gx} - 0)$$

$$\sum P_y = m(v_{Gy}^d - v_{Gy}^a) \quad P_T = 3 \cdot (-v_{Gy} + 14)$$

$$M_G^P = I_G(\omega^d - \omega^a) \quad P_T \cdot 1 = \left(\frac{1}{12} 3 \cdot 2 \cdot 2^2\right)(\omega - 0) = 2\omega$$

Cinemática:

$$B \in \text{hilo AB} \rightarrow \vec{v}_B = \vec{v}_A + \vec{\omega}_h \wedge \overline{AB} = -10\omega_h \vec{i}$$

$B, G \in$  bloque :

$$\vec{v}_G = \vec{v}_B + \vec{\omega} \wedge \overline{BG} \rightarrow \begin{cases} v_{Gx} = -10\omega_h + \omega \\ -v_{Gy} = -\omega \end{cases}$$

Sustituyendo en las ecs de las percusiones queda:

$$0 = -10\omega_h + \omega \rightarrow \omega = 10\omega_h$$

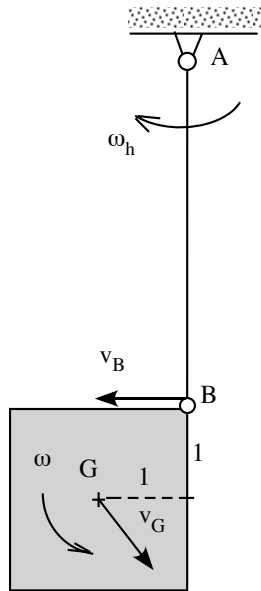
$$P_T = -3 \cdot \omega + 42$$

$$P_T = 2\omega$$

Se obtiene:

$$\omega = 8.4 \text{ rad/s} \quad \omega_h = 0.84 \text{ rad/s} \quad \vec{v}_G = -8.4 \vec{j} \text{ m/s}$$

$$P_T = 16.8 \text{ N}\cdot\text{s} > 0$$



Energía cinética antes y después de la percusión:

$$E_{\text{cin}}^{\text{antes}} = \frac{1}{2} m v_G^2 = \frac{1}{2} 3 \cdot 14^2 = 294 \text{ J}$$

$$E_{\text{cin}}^{\text{después}} = \frac{1}{2} m v_G^2 + \frac{1}{2} I_G \omega^2 = \frac{1}{2} 3 \cdot (8.4)^2 + \frac{1}{2} 2 (8.4)^2 = 176.4 \text{ J}$$

(Energía perdida en la percusión:  $E_{\text{cin}}^{\text{después}} - E_{\text{cin}}^{\text{antes}} = -117.6 \text{ J}$  )