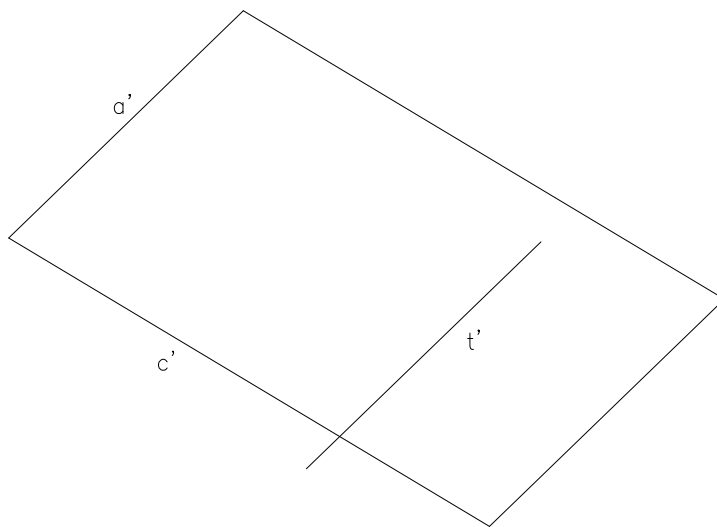
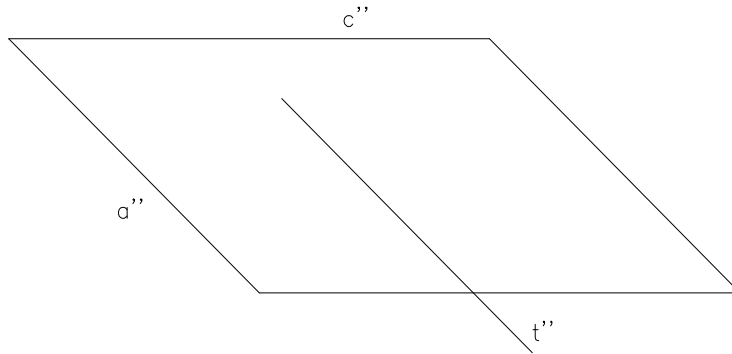



Hallar la distancia entre una línea telefónica t y el plano de cubierta de una nave cercana definido por la cumbrera c y el alero a . Los datos del problema que se acompañan están a E 1/200.



Examen de Técnicas de Representación Gráfica E.U. Ingeniería Técnica Minera Torrelavega Febrero 2.011

Número	Nombre			Grupo	Calificación
Ejercicio	Escala	TECNICAS DE REPRESENTACION GRAFICA	Fecha	Tiempo	
9.2				40'	
	GRADO EN INGENIERIA DE LOS RECURSOS MINEROS Y ENERGETICOS UNIVERSIDAD DE CANTABRIA				