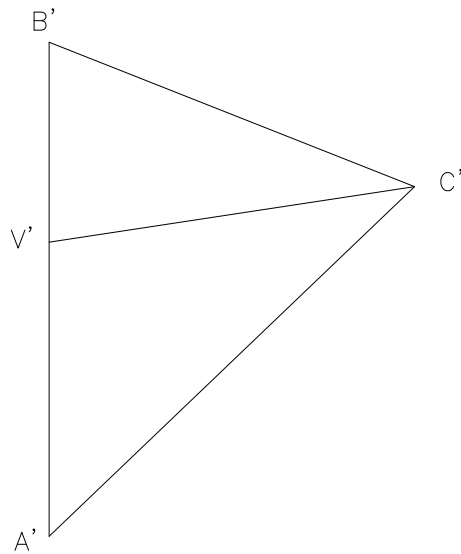
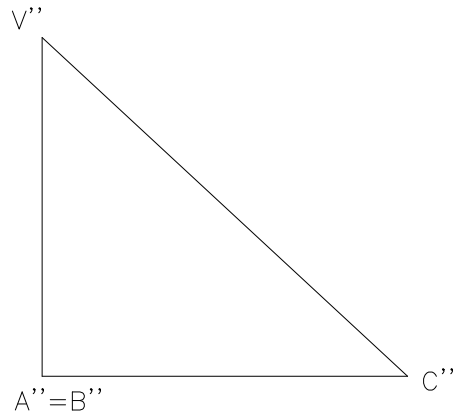



Se diseña un remate mediante tres chapas de acero dispuestas tal como se indica en la figura. Determinar los ángulos que forman cada una con el plano horizontal y los ángulos de apertura en el vértice de unión, es decir, los que forman cada pareja de aristas entre sí.



Examen de Dibujo Técnico E.U. Ingeniería Técnica Minera Torrelavega Enero 1.997

Número	Nombre			Grupo	Calificación
Ejercicio	Escala	TECNICAS DE REPRESENTACION GRAFICA	Fecha	Tiempo	
5.3					
	GRADO EN INGENIERIA DE LOS RECURSOS MINEROS Y ENERGETICOS UNIVERSIDAD DE CANTABRIA				